



Contar Dulces Para El Día de San Valentín

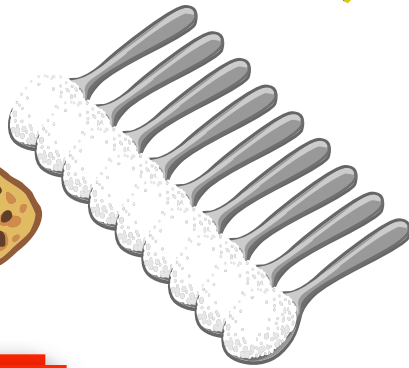


El Chef Solus disfruta de un dulce el Día de San Valentín. ¿Puedes ayudarlo a contar justo cuántas cucharaditas de azúcar hay en cada dulce? Escribe la respuesta en la línea.




=

6



=

9



=

6

Dulces Para el Amor
Caja de 1 oz.

